

Шифр участника 5003

ЗАДАНИЯ ДЛЯ ОБУЧАЮЩИХСЯ

Время выполнения заданий – 45 минут

Максимальное количество баллов – 100 баллов

Задание 1. Максимальный балл за задание – 8.

Соотнесите периоды древнейшей истории и их приблизительную датировку.

Запишите буквы в таблицу, под которой он указан.

Приблизительная датировка	Период древнейшей истории
1 Полтора миллиона лет назад	А) появление первых стоянок древнейших людей на территории современной России
2 Полмиллиона лет назад	Б) начало использования древнейшими людьми огня
3 Сто тысяч лет назад	В) появление первых людей современного типа
4 Сорок тысяч лет назад	Г) начало последнего ледникового периода

Ответ:

1	2	3	4
Б	А	Г	В

Задание 2. Максимальный балл за задание – 15.

По какому принципу образованы ряды?

1. Шерстистый носорог, мамонт, пещерный медведь Животные которые вымерли (Вымирающие) вымерли +
2. Земледелие, скотоводство, ремесло Старинные работы -
3. Духи, идолы, молитвы религия +
4. Анубис, Осирис, Гор Боги древние египтя +
5. Дубина, каменное рубило, палка-копалка орудие труда -

Задание 3. Максимальный балл за задание – 6.

На контурной карте Египта:

1. Напишите названия морей, омывающих Египет.
2. Напишите название главной реки Египта.
3. Напишите, как называется материк, на котором расположен Египет.

Шифр участника _____

1. Древнейший гроб.
2. Бог, хранитель мертвых с головой шакала.
3. Учёный, открывший гробницу Тутанхамона.
4. Правитель Египта.
5. Государство в Северо-Восточной Африке.
6. Фараон, правивший всего 6 лет, но известный всему миру.
7. Тело умершего, пропитанное смолой и обмотанное бинтами.
8. Место нахождения гроба фараона.
9. Учёные, производящие раскопки.
10. Амулет, обозначающий жизнь, спрятанный между слоями полотен фараона Тутанхамона.

Задание 7. Максимальный балл за задание – 10.

Соотнесите имена египетских богов и их характеристики.

Характеристика египетского бога	Египетский бог
1 Богиня истины, справедливости и гармонии.	А) Амон
2 Покровитель земледелия, садоводства, а также царь загробного мира.	Б) Осирис
3 Бог мудрости и знаний.	В) Маат
4 Бог солнечного диска	Г) Сет
5 Бог Солнца и покровитель города Фивы.	Д) Тот
6 Бог песчаных бурь, хаоса и войны.	Е) Гор
7 Богиня любви, плодородия и женской красоты.	Ж) Апис
8 Священный бык, сын богини неба Нут.	З) Анубис
9 Покровитель земных фараонов	И) Атон
10 Проводник в умерших в царство мёртвых	К) Бастет

Соответствующие буквы ответов внеси в таблицу.

Ответ:

1	2	3	4	5	6	7	8	9	10
В +	Б +	А +	И +	А +	Е -	К +	Ж +	Г -	З +

Шифр участника _____

Задание 8. Максимальный балл за задание – 8.**Прочитайте текст и вставьте пропущенные слова.**

Завоевательные походы египетских фараонов стали особенно успешны после появления важного изобретения в области военного снаряжения – запряжённой конями А) _____, позволившей воинам быстро передвигаться на большие расстояния и внезапно атаковать противника. Ещё в эпоху Древнего царства Египет стремился покорить богатую золотыми рудниками Б) _____ на юге. В эпоху Нового царства, помимо этой области, египетские войска покорили В) _____ на западе, богатый медными рудниками Г) _____ полуостров, а затем, вторглись в Азию, завоевали Д) _____, Е) _____ и Ж) _____, дойдя до реки З) _____.

Ответ:

А)	Д)
Б)	Е)
В)	Ж)
Г)	З)

Задание 9. Максимальный балл за задание – 12.**Расположите ремесленные изделия в хронологическом порядке их появления.**

- А. глиняная посуда
- Б. литые медные орудия труда
- В. деревянная посуда
- Г. кованые медные орудия труда
- Д. бронзовые орудия труда
- Е. золотые и серебряные украшения



Ответ:

1	2	3	4	5	6
А -	В -	Г +	Б +	А -	Е -



Задание 10. Максимальный балл за задание – 15.

На фотографиях изображены памятники архитектуры и скульптуры города Омска. Определите их название. Напишите год возведения каждого памятка.

Шифр участника _____

А)		Название: Год возведения:
Б)		Название: Шар Горького + Год возведения:
В)		Название: ЖО Год возведения:

Шифр участника _____

<p>Г) </p>	<p>Название: <i>Модница</i> +</p> <p>Год возведения:</p>
<p>Д) </p>	<p>Название:</p> <p>Год возведения:</p>

30

500